

Un poquito de restas.

Adivinamos el número que va dentro del cuadrito.,
recuerda que puedes hacerlo con la escalera, con
palitos , con la tarjeta que tenemos en el estuche, o
contando, como más fácil te resulte.

$$\boxed{4} - \boxed{} = \boxed{2}$$

$$\boxed{9} - \boxed{} = \boxed{6}$$

$$\boxed{12} - \boxed{} = \boxed{7}$$

$$\boxed{} - \boxed{2} = \boxed{8}$$

$$\boxed{6} - \boxed{} = \boxed{5}$$

$$\boxed{14} - \boxed{} = \boxed{8}$$

$$\boxed{10} - \boxed{} = \boxed{6}$$

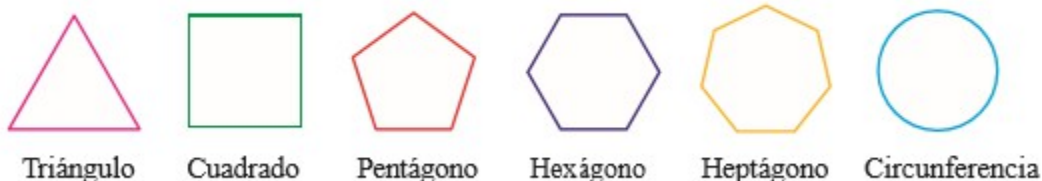
$$\boxed{} - \boxed{4} = \boxed{8}$$

Ahora vamos a completar esta
cuadrícula

+	1	2	3	4	5	6	7	8	9
1	2	3							
2	3								●
3								●	●
4							●	●	●
5						●	●	●	●

Ahora vamos a recordar algunas figuras planas

Figuras geométricas básicas



El triángulo tiene tres lados.

El cuadrado tiene cuatro lados.

El pentágono tiene cinco lados.

El hexágono tiene seis lados.

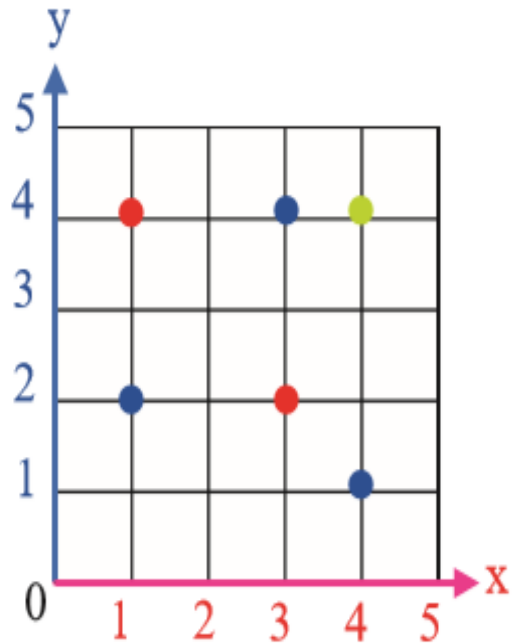
El heptágono tiene siete lados.

Y la circunferencia es redondita, no tiene lados.


Ahora dibujamos las figuras...con regla y de colores.

1 En el siguiente plano cartesiano al unir los puntos de color azul con segmentos de línea recta, ¿qué figura se forma?

- a) Un triángulo
- b) Un cuadrado
- c) Un pentágono
- d) Un hexágono
- e) Un heptágono



Fíjate en el dibujo muy bien y luego responde a las preguntas:



¿ Cuántas pelotas hay encima de la mesa?

¿ Cuántas muñecas hay encima de la mesa?

¿Cuántos coches hay encima de la mesa?

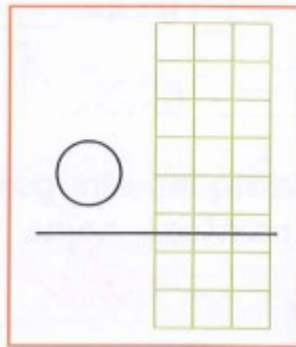
¿Cuántas pelotas hay en total?

Ahora dibuja una mesa y coloca encima 4 coches y debajo 7 cosas que te gusten mucho.

Recuerda leer despacito y fijarte en los dibujos

He comprado una camiseta y un pantalón.

¿Cuánto dinero he gastado?



¿Qué debo hacer?


Junto lo que valen las dos cosas.

Si junto tengo que:

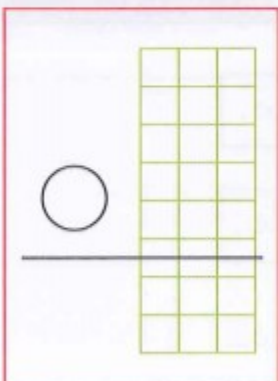
Sumar

Restar

Solución: He gastado _____ €.



Mi mamá ha comprado una vajilla rebajada. Observa los precios y calcula el dinero que ha ahorrado.




¿Qué debo hacer?

Al precio que tenía antes la vajilla le quito el precio actual.

Si quito tengo que:

Sumar

Restar



Ahora 42 €

~~Antes 49 €~~

Solución: Ha ahorrado _____ €.

Estaría genial que ahora inventaras un problema, parecido a uno de los que acabas de hacer.