



Nombre: Fecha: Curso:

1 Cuenta y escribe cuántos hay.

.....

.....

.....

.....

.....

2 Repasa y continúa las series.


10 11 12

19 18 17



Nombre: Fecha: Curso:

1 ¿Cuántos hay en total?



Hay  .

	D	U
		4
+		6



Hay  .

	D	U
	1	0
+		8

2 ¿Cuántos peces quedan? Calcula y completa.



Quedan  .

	D	U
		8
-		6



Nombre: Fecha: Curso:

1 Coloca y calcula.

$9 + 5$

$8 + 8$

$7 + 4$

$1 + 6$

	D	U
		9
+		5

	D	U
		8
○		8

	D	U
		7
○		4

	D	U
		1
○		6

2 ¿Qué números faltan? Escribe.

16		
----	--	--

	14	
--	----	--

		19
--	--	----

3 ¿Qué operación harías en cada caso? Marca.



Suma Resta



Suma Resta



Nombre: Fecha: Curso:

1 ¿Cuándo lo haces tú? Colorea los círculos según el código.

rojo: mañana verde: tarde

azul: noche



2 ¿Qué dato falta? Marca y completa.



Carmen tiene 9 cromos.

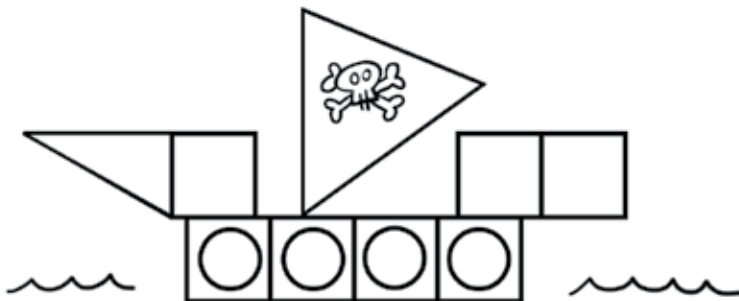
Le da a Marcos.

¿Cuántos le quedan?

1

3

3 Colorea las figuras de cada tipo del mismo color.






Nombre: Fecha: Curso:

Dos pulpos han encontrado unos cangrejos muy apetitosos, pero no saben si pueden llevarse todos a casa para merendar.

¿Les ayudas?



1 ¿Cuántos cangrejos hay? Cuenta y completa.

.....	D	y	U
-------	---	---	-------	---

Hay

 cangrejos.

2 Si cada pulpo coge un cangrejo con cada tentáculo, ¿pueden llevarse todos?

- Sí, pueden llevarse todos.
- No, les faltan 2 tentáculos a cada uno.
- No, les falta un tentáculo a cada uno.

3 ¿Qué pueden hacer los pulpos para llevarse todos los cangrejos?
