

1. Escribo el nombre de los números.

0 \_\_\_\_\_

3 \_\_\_\_\_

6 \_\_\_\_\_

1 \_\_\_\_\_

4 \_\_\_\_\_

7 \_\_\_\_\_

2 \_\_\_\_\_

5 \_\_\_\_\_

8 \_\_\_\_\_

9 \_\_\_\_\_

2. Ordena estos números de mayor a menor




2	7	9	0	3	5	8
---	---	---	---	---	---	---

--	--	--	--	--	--	--

3. Escribo los signos de  $>$ ,  $<$  o  $=$

3	2	5	7	2	1
4	3	$3+1$	7	$4+1$	5
8	7	4	4	$5+1$	6
3	3	7	7	8	7

4. Uno con su suma

$3+3$		$1+3$
$3+1$		$7+1$
$4+4$		$5+3$
$6+0$		$5+1$
$2+2$		$6+2$

5. Piensa y escribe el sumando que falta

$$3 + \text{[star]} = 6$$

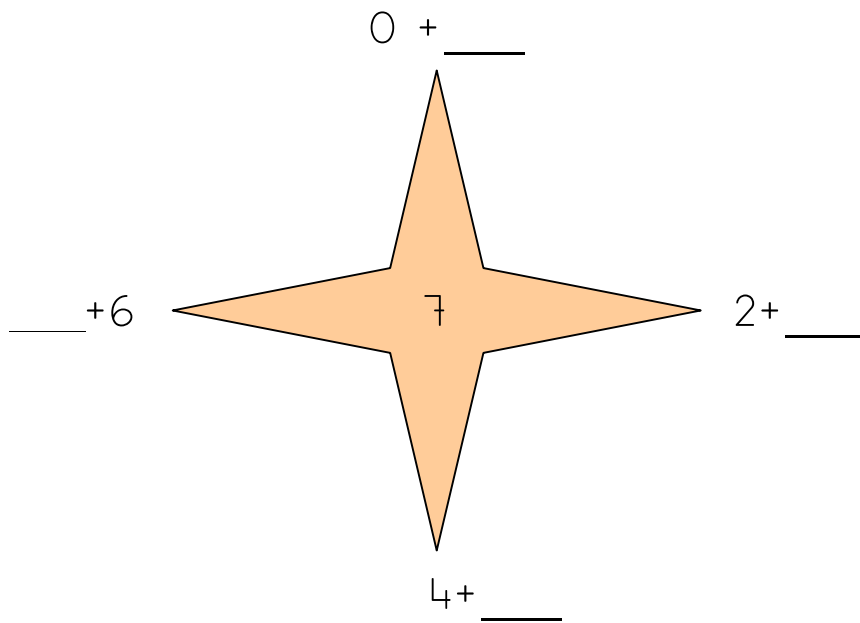
$$\text{[star]} + 4 = 5$$

$$5 + \text{[star]} = 7$$

$$\text{[star]} + 6 = 8$$

$$1 + \text{[star]} = 4$$

$$\text{[star]} + 9 = 9$$



6.Resto

$7 - 3 = \underline{\quad}$

$4 - 1 = \underline{\quad}$

$8 - 5 = \underline{\quad}$

$6 - 2 = \underline{\quad}$

$3 - 2 = \underline{\quad}$

$9 - 7 = \underline{\quad}$

$5 - 5 = \underline{\quad}$

$9 - 6 = \underline{\quad}$

$6 - 6 = \underline{\quad}$

$7 - 2 = \underline{\quad}$

$8 - 1 = \underline{\quad}$

$7 - 5 = \underline{\quad}$

$4 - 2 = \underline{\quad}$

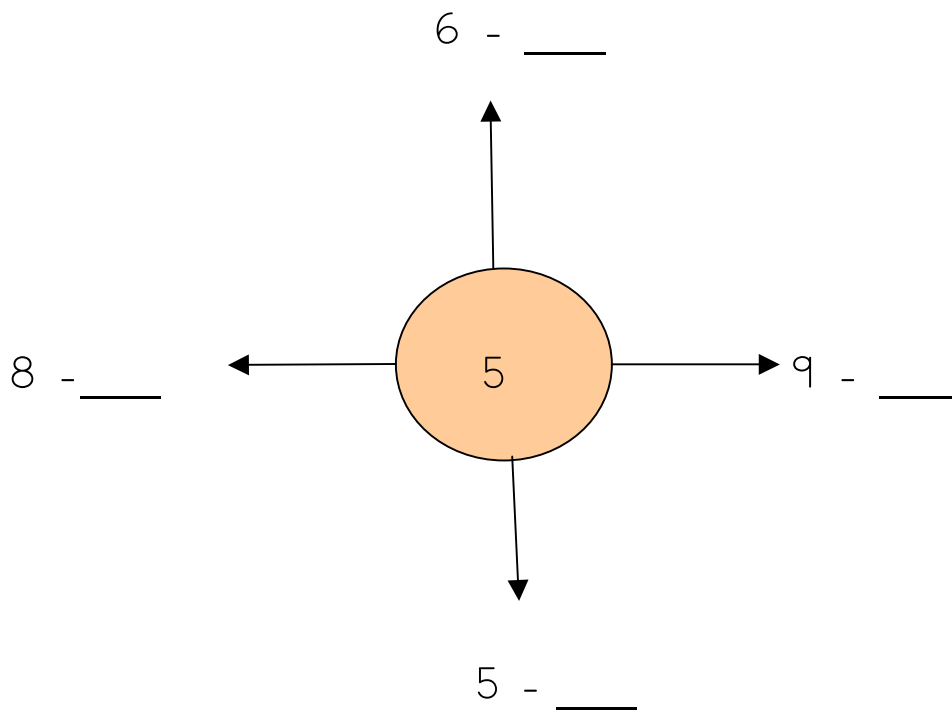
$2 - 2 = \underline{\quad}$

$7 - 6 = \underline{\quad}$

$9 - 3 = \underline{\quad}$

$8 - 2 = \underline{\quad}$

$4 - 4 = \underline{\quad}$



## 7. Problemas

-Ana tiene una gallina que ha puesto 5 huevos. Su madre le coge 2 para hacer una tortilla. ¿ Cuántos huevos le quedan ?

-Antonio tiene un loro con 8 plumas en su cola. Pero le da un tirón y le arranca 3. ¿ Cuántas plumas le quedan ahora a la cola del loro ?

-En la huerta del abuelo de Guadalupe hay 9 limoneros, pero con las heladas se le han secado 3. ¿ Cuántos limoneros le han quedado?

