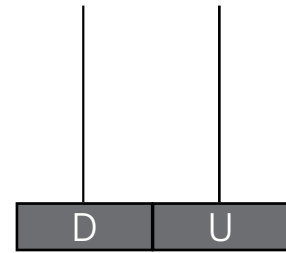





Nombre: Fecha: Curso:

1 Haz grupos de diez y completa.



Hay decenas y unidades.

2 Tengo una decena de zanahorias y 8 conejos. ¿Hay una para cada conejo? Marca.



No, faltan 2 zanahorias.


Sí, sobran 2 zanahorias.

- Colorea los conejos con las orejas anchas y largas.



Nombre: Fecha: Curso:

- 1 ¿Cuántos pollitos faltan por nacer?



Hay huevos.

Han nacido .

..... - =

Faltan por nacer .

- 2 Calcula y rodea los números menores que 4.

$$8 - 5 = \dots \quad 4 + 6 = \dots \quad 7 - 1 = \dots$$

$$3 + 6 = \dots \quad 9 - 2 = \dots \quad 5 - 2 = \dots$$


- 3 Repasa las líneas curvas y cerradas. Después, colorea.





Nombre: Fecha: Curso:

- 1 Dibuja los muñecos que faltan para tener diez unidades.



- 2 Repasa y completa las series.

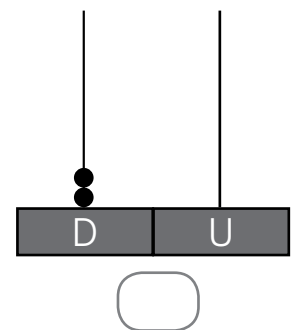
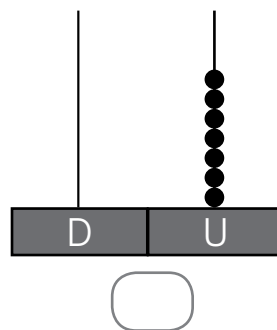
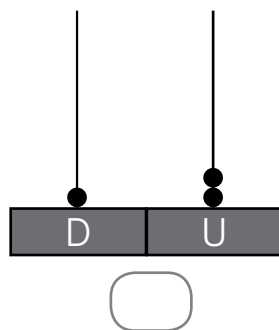
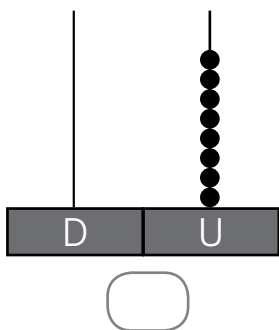
0 1 2 3 4 5 6 7 8 9 10

0 1 2 3 4 5 6 7 8 9 10

10 9 8 7 6 5 4 3 2 1 0

10 9 8 7 6 5 4 3 2 1 0

- 3 Marca los ábacos que tienen más de una decena.





Nombre: Fecha: Curso:


1 Observa, repasa y completa.



$$4 - 1 = 3$$



$$6 - \dots = 4$$



$$\dots - 2 = 2$$

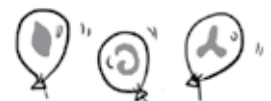


$$\dots - 5 = \dots$$

2 Marca la solución correcta y escribe el resultado.







Había

Volaron

Quedan

$$5 - 2 = \dots$$



Nombre: Fecha: Curso:

- 1 Observa la imagen y resuelve.



- ¿Qué crees que hacen estos animales?

- ¿Cuántos animales hay en total? Marca y escribe el número.

<input type="radio"/> 6	<input type="checkbox"/>	<input type="radio"/> 9	<input type="checkbox"/>	<input type="radio"/> 10	<input type="checkbox"/>
-------------------------	--------------------------	-------------------------	--------------------------	--------------------------	--------------------------

- ¿Cuántos animales quedan si se van los que llevan pantalones largos? Completa.

Hay animales.

Si se van quedan

○	=
.....

- Colorea la oración verdadera.

Hay más cocodrilos.

Hay más leones.