







Nombre: Fecha: Curso:

1 Tacha todos los árboles y algunas farolas.



2 ¿Cuántos hay? Observa el dibujo de la actividad anterior y completa los ábacos.

UNIDADES	UNIDADES	UNIDADES	UNIDADES
			

3 Fíjate en el modelo y completa.

4 → 5 → 6

□ → 6 → □

6 → □ → □

□ → □ → 9