



Nombre: Fecha: Curso:


1 Rodea, en cada serie, el número equivocado.

(80) → (81) → (82) → (83) → (84) → (86)

(86) → (87) → (88) → (89) → (80) → (91)


(91) → (93) → (94) → (95) → (96) → (97)

2 Cuenta y escribe los números.



(85) _____





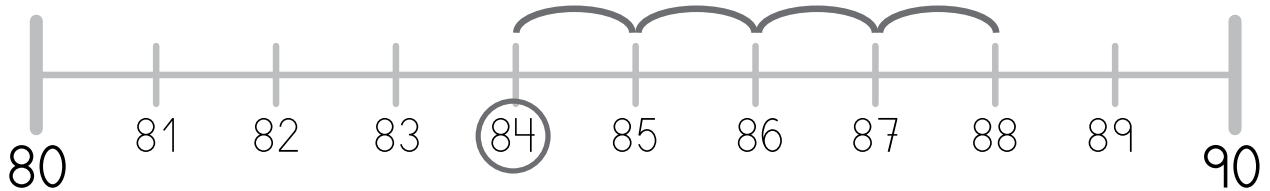




Nombre: Fecha: Curso:

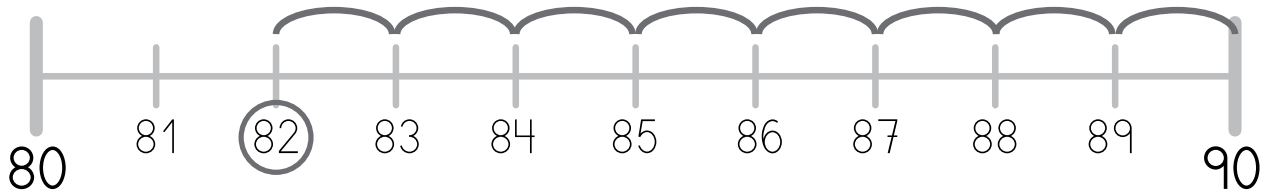
- 1 Calcula las sumas, rodea el resultado y completa.

$$84 + 4$$



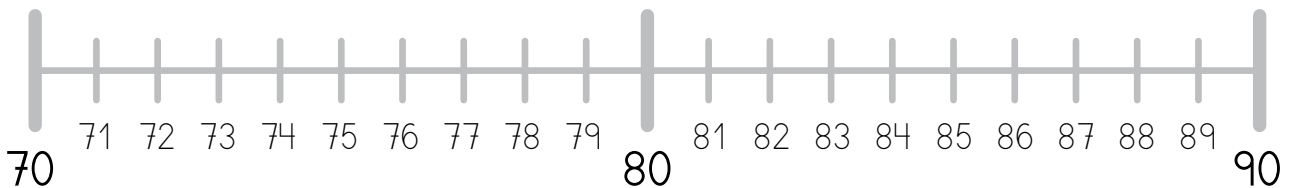
$$84 + 4 = \dots\dots\dots$$

$$82 + 8$$



$$82 + 8 = \dots\dots\dots$$

- 2 Suma y resta con ayuda de la recta.



$$75 + 5 = \dots\dots\dots$$

$$85 - 10 = \dots\dots\dots$$

$$80 + 10 = \dots\dots\dots$$

$$78 - 6 = \dots\dots\dots$$

$$82 + 6 = \dots\dots\dots$$

$$90 + 8 = \dots\dots\dots$$