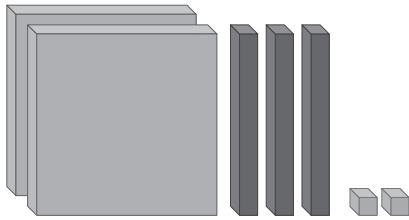
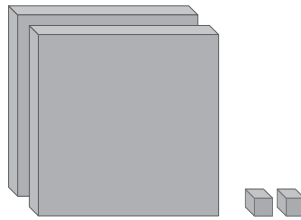
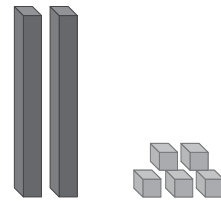


1 Escribe con números decimales cómo se representan cada una de estas cantidades.









2 Colorea este mosaico siguiendo el código.

- Azul → 2 décimas
- Verde → 30 centésimas
- Rojo → 5 centésimas
- Amarillo → 3 décimas



• ¿Qué parte del mosaico ha quedado sin colorear?

.....

3 Escribe, en cada caso, dos números decimales que cumplan las condiciones indicadas. Escribe también cómo se leen.

	se escribe	se lee
<b>n.º decimal comprendido entre 2,3 y 2,4</b>		
<b>n.º decimal mayor que 1,5 con la parte entera igual a 1</b>		
<b>n.º decimal menor que 1,2 con dos cifras en la parte decimal</b>		

- 4 Coloca y resuelve las siguientes operaciones.

$$3,65 + 9,39$$

$$12,33 + 0,89$$

$$12,68 - 7,69$$

$$25 - 18,93$$

- 5 Completa las operaciones con los números que faltan.

$$\begin{array}{r} 5 \quad \bullet \quad \bullet \quad 8 \\ + \quad \bullet \quad 5, \quad 3 \quad \bullet \\ \hline \bullet \quad 3 \quad 2, \quad 0 \quad 8 \end{array}$$

$$\begin{array}{r} 4 \quad 6 \quad \bullet \quad 6 \quad 3 \\ - \quad \bullet \quad 7 \quad 5, \quad 0 \quad \bullet \\ \hline 1 \quad \bullet \quad 0, \quad \bullet \quad 4 \end{array}$$

$$\begin{array}{r} 9 \quad \bullet \quad \bullet \quad 1 \\ + \quad \bullet \quad 0, \quad 8 \quad \bullet \\ \hline \bullet \quad 5 \quad 6, \quad 1 \quad 0 \end{array}$$

$$\begin{array}{r} 9 \quad 0 \quad \bullet \quad 4 \quad 8 \\ - \quad \bullet \quad 3 \quad 2, \quad 2 \quad \bullet \\ \hline 4 \quad \bullet \quad 2, \quad \bullet \quad 4 \end{array}$$

- 6 Coloca y resuelve estas multiplicaciones.

$$7,5 \times 8$$

$$61,3 \times 5$$

$$714,09 \times 8$$

$$380,2 \times 6$$

- 7 Nina dedica 6 minutos y medio a resolver cada uno de los tres ejercicios que tiene que hacer. ¿Cuánto tiempo tardará en resolverlos todos?

Respuesta: .....


.....



- 8 Pedro quiere comprar 4 sillas para su comedor. Si cada una cuesta 118,23 €, ¿tendrá suficiente dinero para pagarlas con un billete de 500 €? ¿Cuánto le faltará o le sobrará?

Respuesta: .....

.....



- 9 Claudia ha comprado 9 envases de dos litros y medio de zumo de naranja.

- a) ¿Cuántos litros de zumo ha comprado en total?  
b) Si cada envase cuesta 3,37 €, ¿cuánto ha pagado en total?



Respuesta: .....