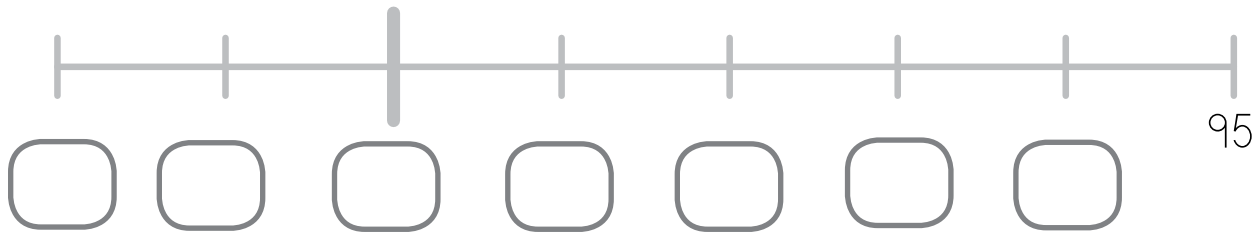




Nombre: Fecha: Curso:

1 Completa la recta numérica y resuelve.




- Rodea el número que es mayor que 94.
- Escribe con letra los números que están entre el 88 y el 91.


- Tacha el número en el que la cifra de las decenas es menor que la de las unidades.
- ¿Cuál es el número anterior? ¿Y el posterior?

2 Dibuja lo que medirías con cada unidad de medida.


palmos



pasos



pies





Nombre: Fecha: Curso:

1 Rodea dónde cabe más y tacha dónde cabe menos.



2 Coloca y calcula.

$$96 - 24$$

	D	U
○		

$$42 + 57$$

	D	U
○		

$$65 - 5$$

	D	U
○		

$$42 + 46$$

	D	U
○		

3 Jaime tiene 47 cómics. Rosa tiene 14 menos. ¿Cuántos tiene Rosa?



Jaime tiene cómics. Rosa tiene menos.

► Rosa tiene

	D	U
○		