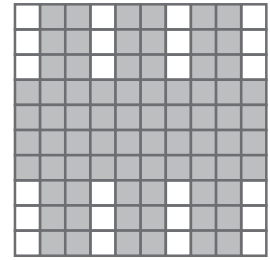





Nombre: Fecha: Curso:

- 1 ¿Cuántas décimas y centésimas están representadas en cada dibujo? Completa.



..... décimas y

..... décimas y

..... centésimas

..... centésimas

..... centésimas

..... centésimas

- 2 Escribe en forma de número decimal y realiza las operaciones indicadas.

5 unidades y 82 centésimas + 25 décimas

12 coma 3 menos 5 coma 29

79 décimas \times 9 unidades
258 centésimas \times 30 décimas

- Ordena los resultados de mayor a menor.

- 3 Iker quiere comprar 7 muñecos de una colección. Si cada uno cuesta 6 € 32 CENT, ¿cuánto dinero tiene que ahorrar todavía para poder comprar los siete?

